


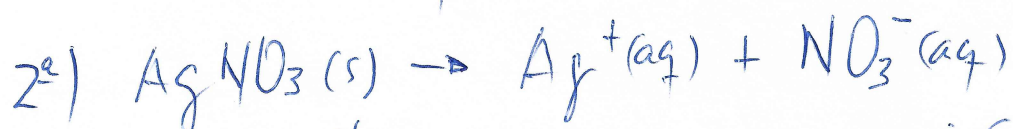
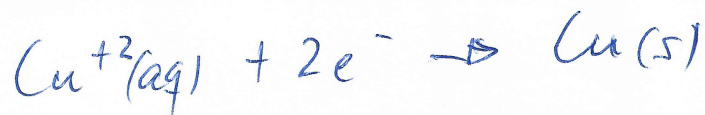
Electrólisis. Ejercicio nº26, p251. EDEBE.

Se colocan en serie, esto es, conectando el ánodo de una cuba electrolítica con el cátodo del siguiente, tres cubas electrolíticas que contienen disoluciones de CuSO_4 , AgNO_3 y FeCl_3 en agua. Escribe las semirreacciones que tienen lugar en el cátodo de cada recipiente.

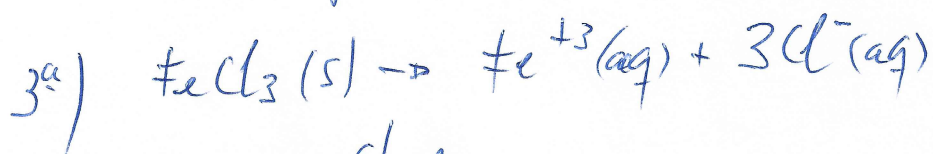

En las tres disoluciones se tiene:



En el cátodo ocurre la semirreacción de reducción:



En el cátodo ocurre la semirreacción de reducción:



En el cátodo ocurre:

